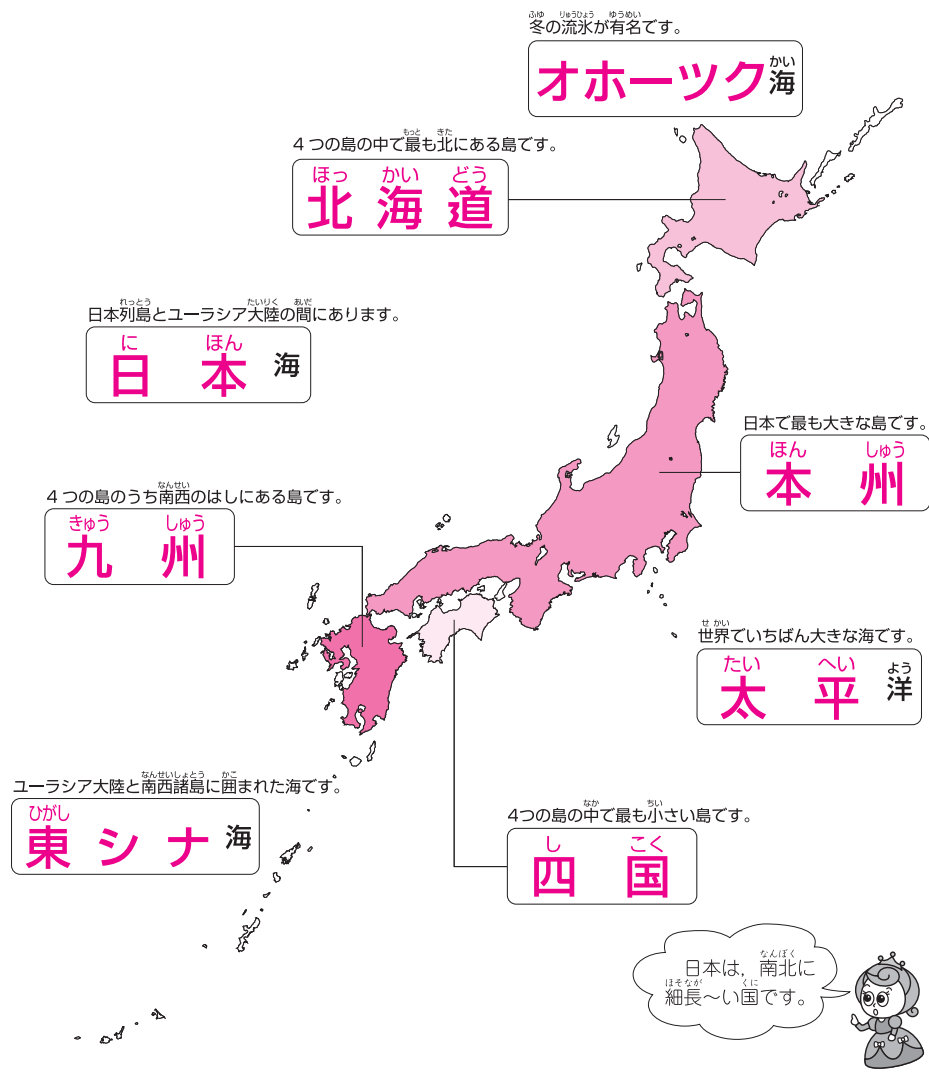


1

日本のすがたを知ろう

答え

日本のまわりの海と4つの大きな島の名前を□の中に書き、4つの大きな島にそれぞれ好きな色をぬりましょう。



北海道・本州・四国・九州の4つの大きな島をきちんと色分けできましたか。色をぬりながら4つの島の大きさの割合もつかみましょう。

日本列島は、南北におよそ3000kmあります。

ドリルの王様大特集

新興出版社 モニブラ or ドリルの王様 [検索](#)

新興出版社の
色々な商品を
無料で試せる
お得なモニターに
ついてはこちら



ドリルの王様
公式サイトは
こちら



苦手を克服 集中特訓ドリルに挑戦しよう!

新興出版社 啓林館 ちびむすドリル コラボ企画

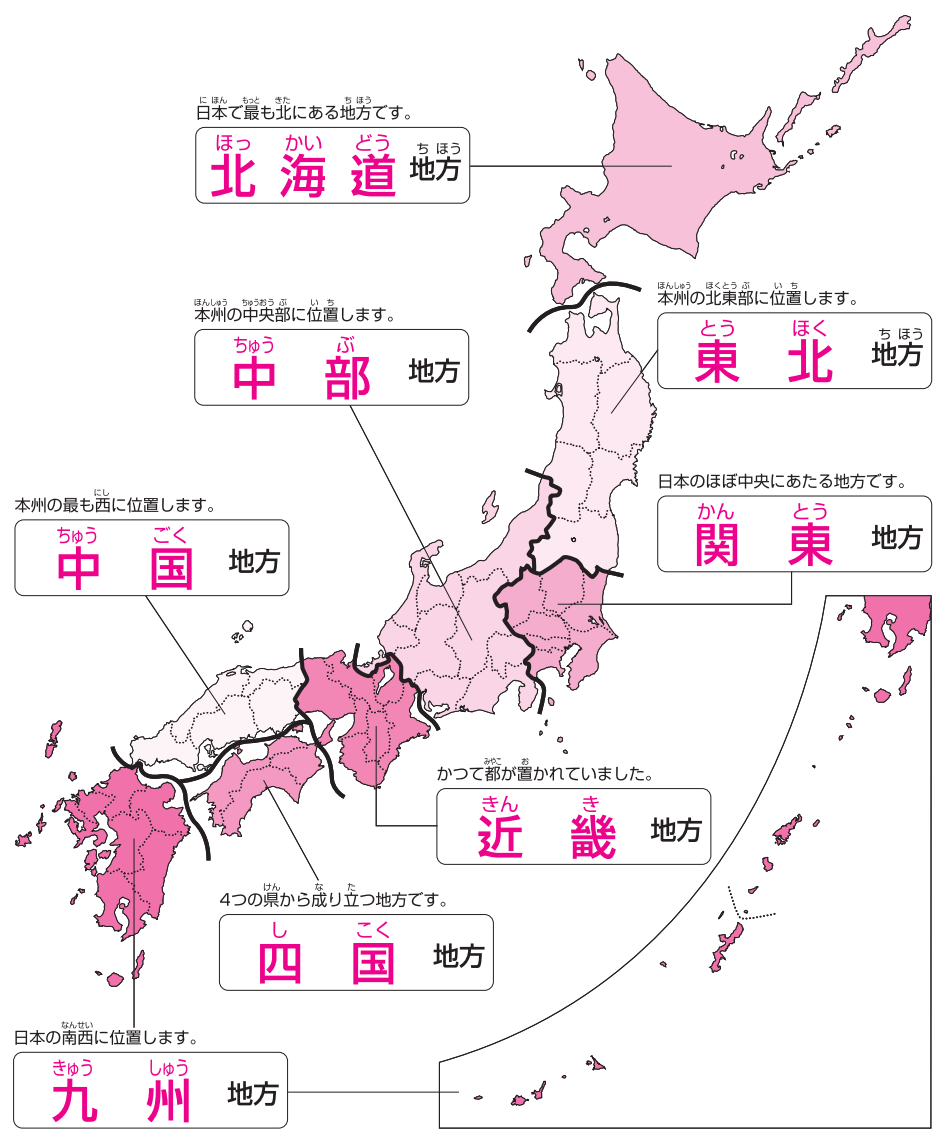
ちびむすドリル × 新興出版社

2

日本を8つに分けよう

答え

8つの地方名を□の中^{ちほうめい}に書き、それぞれの地方に好きな色^{なか}をぬりま^かしょう。



太い線を目安に8地方に色分けできましたか。北海道・本州・四国・九州といった大きな島だけでなく、佐渡島や淡路島・小豆島・隠岐・対馬・屋久島・種子島といった島も忘れずに色分けできていますか。

ドリルの王様大特集

新興出版社 モニブラ or ドリルの王様

新興出版社の
色々な商品を
無料で試せる
お得なモニターに
ついてはこちら



ドリルの王様
公式サイトは
こちら



苦手を克服! 集中特訓ドリルに挑戦しよう!

新興出版社 啓林館
なびむすドリル コラボ企画

ちびむすドリル × 新興出版社

3

どこのものかな？ ～昔の国名がついたもの～ 答え

昔から作られてきたものやおまつりなどにも、昔の国の名前がついているものがたくさんあります。

次の①～⑧はどこの都道府県のものでしょうか。右の県名と——で結びましょう。

①阿波おどり	愛知県
②加賀友禅	石川県
③佐渡おけさ	岡山県
④三州がわら	沖縄県
⑤丹後ちりめん	岐阜県
⑥備前焼	京都府
⑦美濃和紙	徳島県
⑧琉球びんがた	新潟県

今の都道府県
のどこにあるの
かな？

都道府県の境界線は、昔の国の境界線をそのまま利用している場合もありますが、いくつかの国を合わせたものもあります。県名の由来も調べてみましょう。

ドリルの王様大特集

集中特訓ドリルに挑戦しよう！

新興出版社 ちびむすドリル コラボ企画

ちびむすドリル × 新興出版社

新興出版社 モニプラ or ドリルの王様

新興出版社の
色々な商品を
無料で試せる
お得なモニターに
ついてはこちら

ドリルの王様
公式サイトは
こちら

4

日本の気候を知ろう

答え

日本は、国土が南北に長く、海流(海水の流れ)や季節風(季節によって決まった方向にふく風)のえいきょうで、6つの気候区に分けることができます。

地図中の□の気候区の特ちょうを□から選び、[]にア~カの記号を書きましょう。

ア 冬にたくさんの雪がふる。

イ 冬が長く寒さはきびしい。極雨がない。

ウ 冬でもあたたかい。

エ 冬と夏の気温差が大きい。年間を通して雨は少ない。

オ 一年を通して雨が少ない。

カ 冬は晴れの日が多く、夏に雨が多い。

海流は、気候に大きくえいきょうするよ。

あたたかい海水の流れ(暖流)

黒潮(日本海流)

ほっかいどう 北海道の気候

[イ]

にほんかいがわ 日本海側の気候

[ア]

たいへいようがわ 太平洋側の気候

[カ]

ちゅうおうこうち 中央高地の気候

[エ]

せとうち 瀬戸内の気候

[オ]

なんせいしよとう 南西諸島の気候

[ウ]

日本は、海流や季節風の影響を大きく受けます。季節風は、山地にぶつかって、その手前に雨や雪を降らせ、山地をこえると乾いた風になります。

ドリルの王様大特集

新興出版社 モニブラ

or ドリルの王様

検索

新興出版社の
色々な商品を
無料で試せる
お得なモニターに
ついてはこちら



ドリルの王様
公式サイトは
こちら



苦手を克服! 集中特訓ドリルに挑戦しよう!

新興出版社 啓林館
ちびむすドリル × 新興出版社

5

工業の発達しているところをさがそう

答え

工業が発達している工業地帯・工業地いきは、太平洋側に集まっています。
これは、原料の輸入や製品の輸出に便利だからです。

□の中の工業地帯・工業地いきは、地図中のどこにあるでしょう。ア～オから選び、[]に記号を書きましょう。



工業地域・地いき→工場など多くの工業施設が集まっているところをいいます。

- 京浜工業地帯 [**イ**]
- 中京工業地帯 [**ウ**]
- 阪神工業地帯 [**エ**]
- 関東内陸工業地いき [**ア**]
- 瀬戸内工業地いき [**オ**]



日本は原料を輸入して製品を輸出する加工貿易の国です。ですから、大きな船が出入りしやすい太平洋側で工業が発達しましたが、近年、交通の発達とともに、内陸部でも工業が発達しています。

ドリルの王様大特集

新興出版社 モニプラ

or ドリルの王様

検索

新興出版社の
色々な商品を
無料で試せる
お得なモニターに
ついてはこちら



ドリルの王様
公式サイトは
こちら



苦手を克服! 集中特訓ドリルに挑戦しよう!

新興出版社 啓林館
ちびむすドリル × 新集出版

6

ドライブを楽しもう ～高速道路～

答え

高速道路ができるまでは、東京から大阪まで、車で15時間ぐらいかかっていましたが、今では、およそ7時間で行けるようになりました。

□の中の高速道路は、地図中のどこにあるでしょう。ア～カから選び、[] に記号を書きましょう。

かんえつじどうしゃどう 関越自動車道	[イ]
きゅうしゅう 九州自動車道	[カ]
ちゅうおう 中央自動車道	[ウ]
ちゅうごく 中国自動車道	[オ]
とうほく 東北自動車道	[ア]
とうめいこうそくどうろ 東名高速道路	[エ]

高速道路は、高速自動車国道といいます。しかし、「高速道路」とついているのは、東名高速道路と名神高速道路だけで、ほかは「自動車道」です。

ドリルの王様大特集

新興出版社 モニブラ

or ドリルの王様

検索

新興出版社の
色々な商品を
無料で試せる
お得なモニターに
ついてはこちら



ドリルの王様
公式サイトは
こちら



苦手を克服！
集中特訓ドリルに
挑戦しよう！

新興出版社 密林館
ちびむすドリル コラボ企画
ちびむすドリル × 新興出版社

7

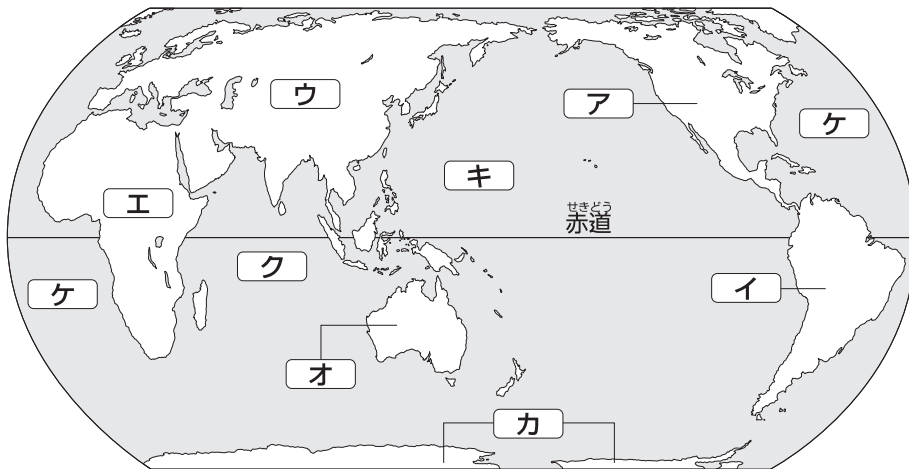
地球のすがたを知ろう

答え

宇宙から地球をながめると、海洋は青く、陸地は茶色と緑色に見えます。陸地は、六つの大陸と多くの島々に分けられ、海洋は三大洋と、日本海などの小さな海に分けられます。

□の中の大陸や海洋は、地図中のどこにあるでしょう。ア～ケから選び、[]に記号を書きましょう。

六 大 陸	アフリカ大陸	[エ]	三	インド洋	[ク]
	オーストラリア大陸	[オ]	大	大西洋	[ケ]
	北アメリカ大陸	[ア]	洋	太平洋	[キ]
	南アメリカ大陸	[イ]	日本は、ユーラシア大陸の東にあるのだ！		
	ユーラシア大陸	[ウ]			
	南極大陸	[カ]			



地球は「水の惑星」といわれるように、海の部分が多く、陸と海の面積はおよそ3：7です。

また、赤道より北の北半球のほうが、南半球より陸地が多いことにも気づきましたか。

ドリルの王様大特集

新興出版社 モニプラ

or ドリルの王様

検索

新興出版社の
色々な商品を
無料で試せる
お得なモニターに
ついてはこちら



ドリルの王様
公式サイトは
こちら






















苦手克服！
集中特訓ドリルに
挑戦しよう！

新興出版社 啓林館
ちびむすドリル コラボ企画

ちびむす
ドリル × 新興出版社

ちず 地図には、その場所^{ばしょ}にどんなものがあるのか、その場所がどのように^{りよう}利用されているのかということ^{きごう}を記号^{あらか}で表した^{ちず}地図記号^{きごう}が使われています。

した 下の地図記号をなぞり、その地図記号が表しているものを下の^{した}□^{なか}の中のア～ソ^{えら}から選び、記号を[]^かに書きましょう。

	 いねをかり とったあとの 切りかぶ の形		 たねから芽を 出してきた 葉の形		 くだもの 形
[オ]		[コ]		[キ]	
	 かんたんて わかりやす い記号にし たもの		 文字の「文」 という字の 形		 昔「通信省」 といい、そ の「テ」を○ で囲んだ形
[ク]		[ア]		[シ]	
	 昔使ってい た消防道具 の形		 おまわりさ んの持って いる「けい ぼう」の形		 「赤十字」の しるしの形
[ウ]		[イ]		[サ]	
	 歯車 の形		 神社の入口 にあるとり いの形		 仏教でめて たいことを 表す形
[エ]		[カ]		[セ]	
	 ほん 本の形		 橋を上から 見た形		 線路の形
[ス]		[ソ]		[ケ]	

ア 学校	イ けいさつしょ	ウ 消防しょ	エ 工場	オ 田
カ 神社	キ くだもの畑	ク 市役所	ケ 鉄道	コ 畑
サ 病院	シ ゆうびん局	ス 図書館	セ 寺	ソ 橋

土地の様子や建物などを、すべて文字や絵で表すと、煩雑で見にくく、かくのにも時間がかかります。そこで、共通の記号を決めて表したものが地図記号です。

ドリルの王様大特集

新興出版社 モニブラ or ドリルの王様 [検索](#)

新興出版社の
色々な商品を
無料で試せる
お得なモニターに
ついてはこちら



ドリルの王様
公式サイトは
こちら



苦手を克服 集中特訓ドリルに挑戦しよう!

新興出版社 ちびむすドリル × 新興出版社

ドリルの王様



だいとくしゅう
大特集

とく てん ひょう
得点表

3～5ねん

日本地図ドリル

ドリルにチャレンジして、点数を記録しよう。
1回目で全問正解できなくても2回、3回と、
くり返しちょうせんしよう！
満点が取れたら、 に色をぬってね。

めざせ
まんてん
満点！！

なまえ
名前

	1回目	2回目	3回目	
1 <small>にほん</small> 日本のすがたを知ろう	点	点	点	
2 <small>にほん</small> 日本を8つに分けよう	点	点	点	
3 <small>どこのものかな？</small> ～昔の国名がついたもの～	点	点	点	
4 <small>にほん</small> 日本の気候を知ろう	点	点	点	
5 <small>こうぎょう</small> 工業の発達している ところをさがそう	点	点	点	
6 <small>たの</small> ドライブを楽しもう ～高速道路～	点	点	点	
7 <small>ちきゅう</small> 地球のすがたを知ろう	点	点	点	
8 <small>ちず</small> 地図のきまり ～地図記号を知ろう～	点	点	点	

ドリルの王様大特集

新興出版社 モニブラ

or ドリルの王様

検索

新興出版社の
色々な商品を
無料で試せる
お得なモニターに
ついてはこちら



ドリルの王様
公式サイトは
こちら



苦手を克服！
集中特訓ドリルに
挑戦しよう！

新興出版社 啓林館
なびむすドリル コラボ企画

ちびむす
ドリル × 新興出版社

