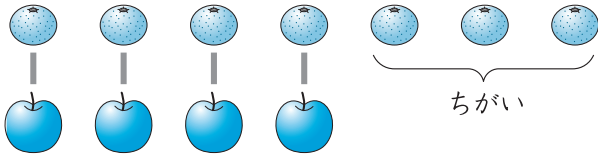


3

ちがいは いくつ

1 みかんが 7こ, りんごが 4こ あります。
みかんと りんごの かずの ちがいは なんこでしょう。




12てん(しき6・こたえ6)

しき - =

こたえ こ



2 あおい くるまが 8だい, しろい くるまが 5だい あります。
あおい くるまは, しろい くるまより なんだい おおいでしょう。




12てん(しき6・こたえ6)

しき - =

こたえ だい

3 ねこが 5ひき, いぬが 3ひき います。
どちらが なんびき おおいでしょう。



12てん(しき6・こたえ6)

しき - =

こたえ () が ひき おおい。

