


1

あわせて いくつ

こたえ

1 りんご 2こ と りんご 3こ を あわせると、ぜんぶで なんこに なるでしょう。

12てん(しき6・こたえ6)



しき $2 + 3 = 5$

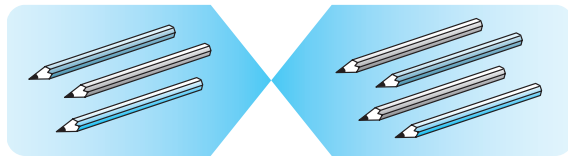
こたえ 5 こ

あわせる ときは、
たしざんを つかうよ。



2 えんぴつ 3ほん と えんぴつ 4ほん を あわせると、ぜんぶで なんほんに なるでしょう。

12てん(しき6・こたえ6)




しき $3 + 4 = 7$

こたえ 7 ほん

3 たしざんの しきを かきましょう。


12てん(1つ6)

① ぜんぶで なんびきでしょう。



しき $(2 + 5 = 7)$

② ぜんぶで なんばでしょう。



しき $(4 + 1 = 5)$

ドリルの王様大特集

新興出版社 モニプラ

or ドリルの王様

検索

新興出版社の
色々な商品を
無料で試せる
お得なモニターに
ついてはこちら



ドリルの王様
公式サイトは
こちら



苦手を克服!
集中特訓ドリルに
挑戦しよう!

新興出版社 啓林館
ちびむすドリル コラボ企画

ちびむす
ドリル × 新興出版社