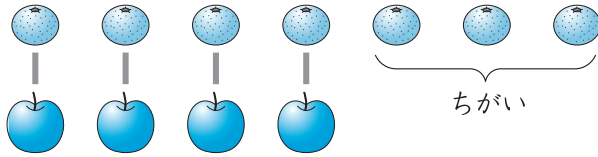


1 みかんが 7こ, りんごが 4こ あります。  
みかんと りんごの かずの ちがいは なんこでしょう。



12てん(しき6・こたえ6)


しき  $7 - 4 = 3$

こたえ 3 こ

ちがいを もとめる ときも、  
ひきざんを つかうんだね。



2 あおい くるまが 8だい, しろい くるまが 5だい ありま  
す。あおい くるまは, しろい くるまより なんだい おおいで  
しょう。




12てん(しき6・こたえ6)

しき  $8 - 5 = 3$

こたえ 3 だい

3 ねこが 5ひき, いぬが 3びき います。  
どちらが なんびき おおいでしょう。



12てん(しき6・こたえ6)

しき  $5 - 3 = 2$

こたえ (ねこ) が 2 ひき おおい。

「どちらが」と「なんびき  
おおいか」の 2つについて  
こたえるんだよ。

