

5

ただしいのはどっちかな

こたえ


1 11じの とけいは どちらですか。

15てん

あ



い



ながい はりと
みじかい はりを
よく みて
こたえようね。

(あ)




2 2じはんの とけいは どちらですか。

15てん

あ



い



(い)


3 ただしいのは どちらですか。

20てん(1つ10)


①

1じ

あ



い




(い)

②

7じはん

あ



い



(あ)

