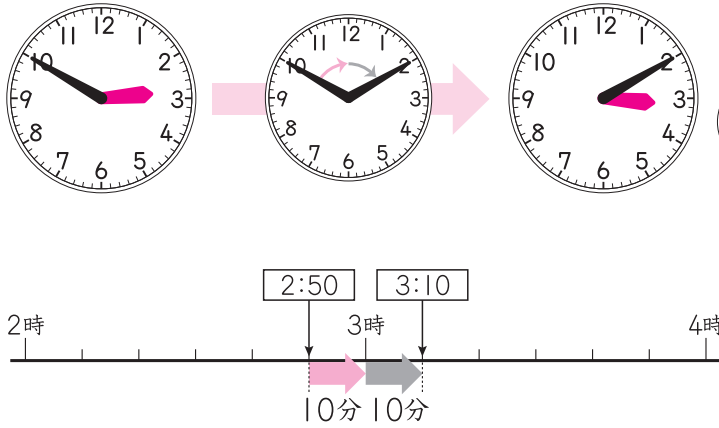



8 3年生の時ごとと時間

★1 左の時ごとから右の時ごとまでの時間は 何分ですか。

①

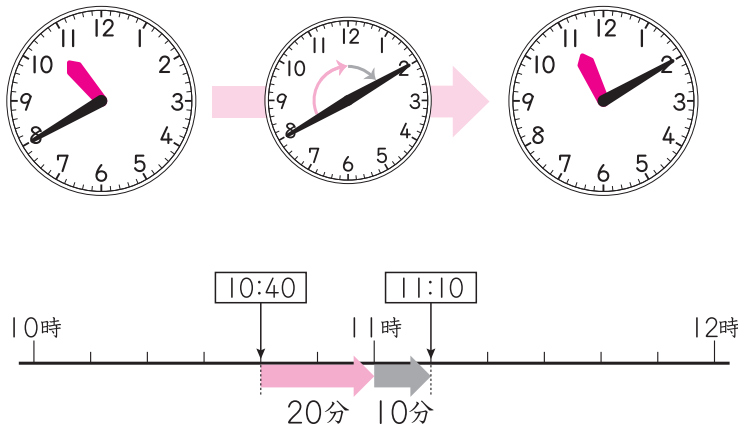


2時50分から 3時までの時間と、
3時から 3時10分までの時間に 分けて 考えよう。



(20分)

②



11時までの時間と、
11時からの時間に
分けて 考えれば
いいね。



()

