

# 1

## 何分をもとめる

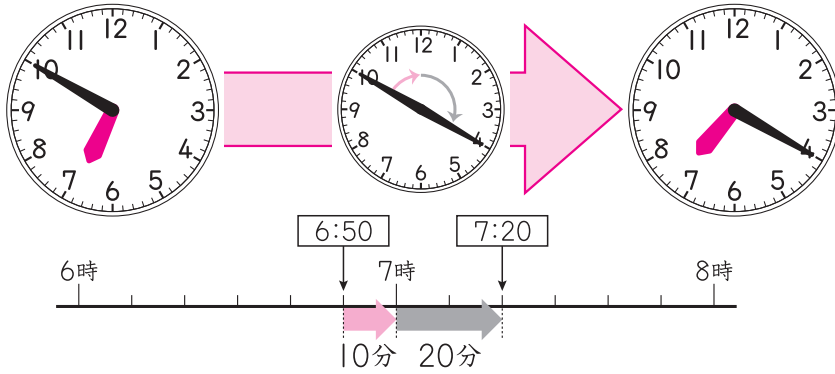
名前

点


1 左の時こくから右の時こくまでの時間は何分ですか。

□にあてはまる数をかきましょう。

30点(□1つ10)



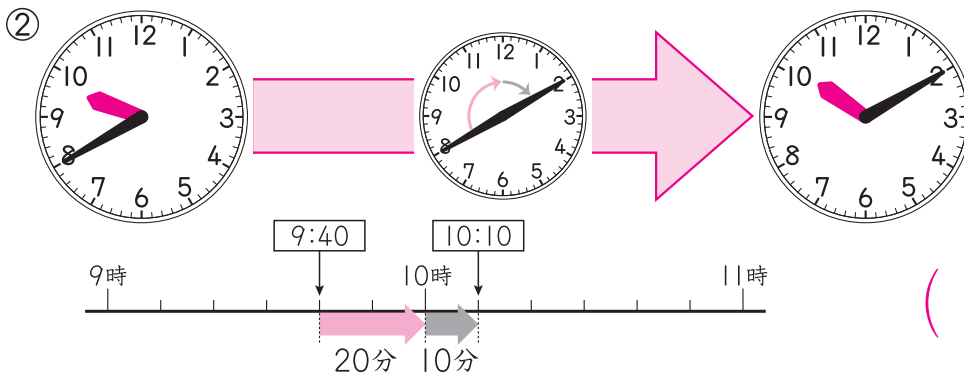
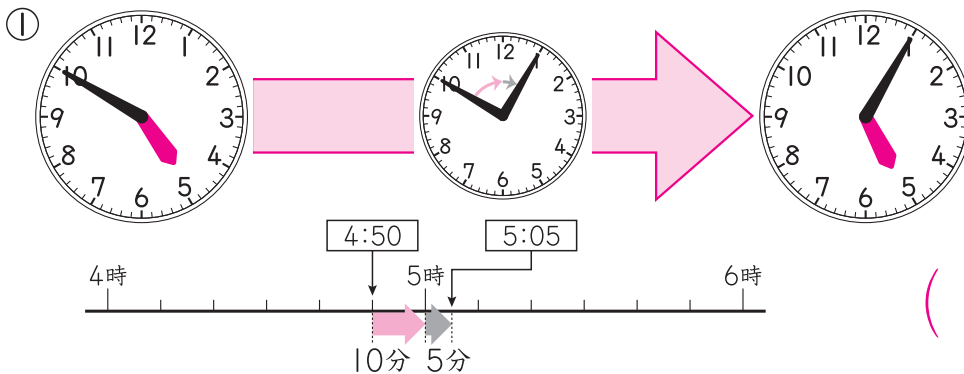
7時までの時間と7時からの時間に分けて考えるといいよ。



6時50分から7時までは **10** 分、7時から7時20分までは **20** 分  
あわせて **30** 分です。

2 左の時こくから右の時こくまでの時間は何分ですか。

20点(1つ10)



### ドリルの王様大特集

新興出版社 モニブラ

or ドリルの王様

検索

新興出版社の  
色々な商品を  
無料で試せる  
お得なモニターに  
ついてはこちら



ドリルの王様  
公式サイトは  
こちら



苦手を克服! 集中特訓ドリルに挑戦しよう!

新興出版社 ちびむすドリル × 新興出版社