

2

あわせた時間

名前

点

1 30分と40分をあわせると、何時間何分ですか。

□にあてはまる数をかきましょう。

25点(□1つ5)



30分と40分をあわせて **70**分

1時間は60分だから、

70分は、**1**時間と**10**分。

だから、**1**時間**10**分です。

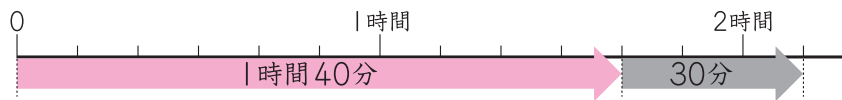
「あわせると」だから
たし算で考えるよ。



2 あわせた時間は、何時間何分ですか。

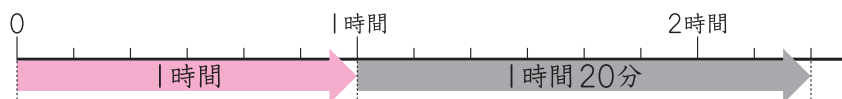
15点(1つ5)

① 1時間40分と30分をあわせた時間



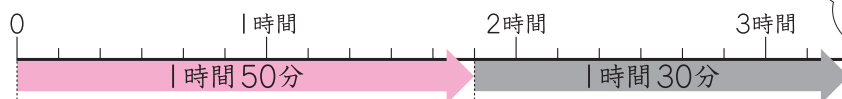
()

② 1時間と1時間20分をあわせた時間



()

③ 1時間50分と1時間30分をあわせた時間



()

1時間50分と1時間30分の1時間どうしをあわせて2時間。それに50分と30分をあわせた時間をたすと考えよう。

