

3

時間のちがい

名前

点

1 1時間20分と30分のちがいは、何分ですか。

□にあてはまる数をかきましょう。

20点(□1つ5)



1時間20分は **80** 分

80 分から **30** 分をひいて、**50** 分です。

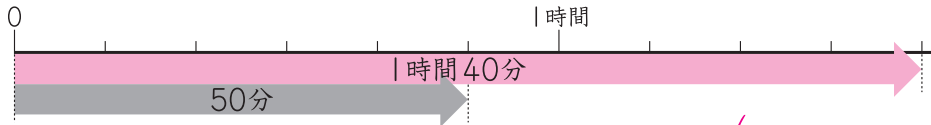
1時間20分を分になおして考えるよ。



2 つぎ 次の時間のちがいをもとめましょう。

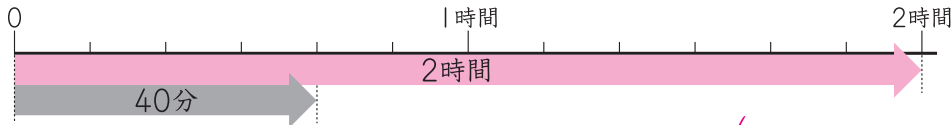
20点(1つ5)

① 1時間40分と50分のちがい



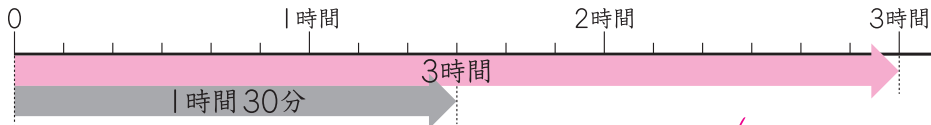
()

② 2時間と40分のちがい



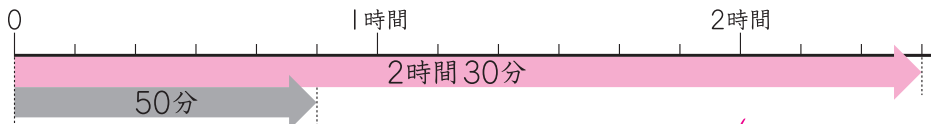
()

③ 3時間と1時間30分のちがい



()

④ 2時間30分と50分のちがい



()

