

4

何時間何分をもとめる

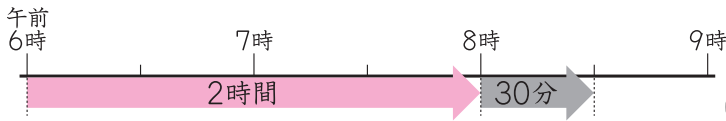
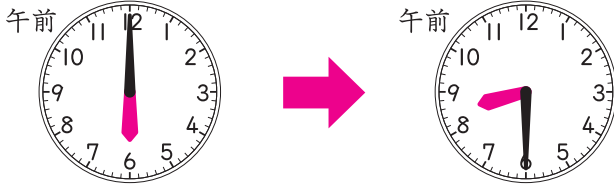
名前

点

1 左の時こくから右の時こくまでの時間は、何時間何分ですか。

□にあてはまる数をかきましょう。

20点(□1つ5)



6時から8時までと、
8時からに分けて考えているね。
6時から8時30分までと
考えてもいいよ。

午前6時から午前8時までは **2** 時間。

午前8時から午前8時30分までは **30** 分。

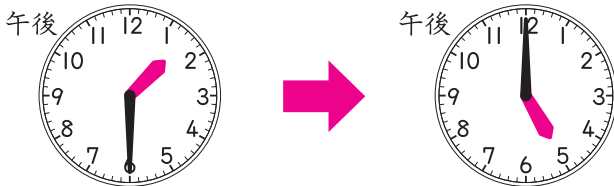
あわせて **2** 時間 **30** 分です。



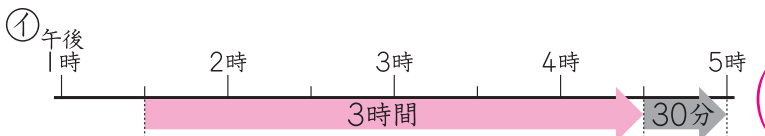
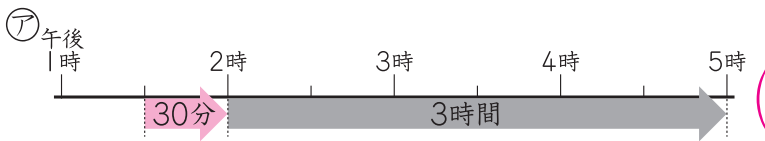
2 左の時こくから右の時こくまでの時間は、何時間何分ですか。

ア、イの2とおりの考え方もとめましょう。

30点(1つ15)



アは2時までと、2時からに
分けて考えるしかた、
イは4時30分までと、
4時30分からに
分けて考えるしかただよ。



ドリルの王様大特集

新興出版社 モニブラ

or ドリルの王様

検索

新興出版社の
色々な商品を
無料で試せる
お得なモニターに
ついてはこちら



ドリルの王様
公式サイトは
こちら



苦手を
克服!
集中特訓ドリルに
挑戦しよう!

新興出版社 森林館
ちびむす
ドリル × 新興出版社