

# 4

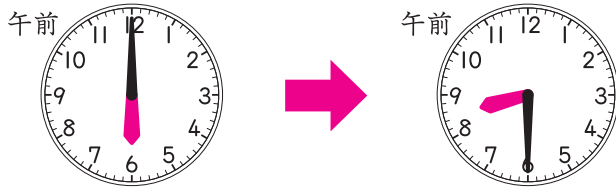
## 何時間何分をもとめる

# 答え

1 左の時こくから右の時こくまでの時間は、何時間何分ですか。

□にあてはまる数をかきましょう。

20点(□1つ5)



6時から8時までと、  
8時からに分けて考えているね。  
6時から8時30分までと  
考えてもいいよ。

午前6時から午前8時までは **2** 時間。

午前8時から午前8時30分までは **30** 分。

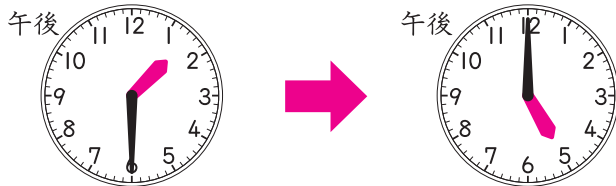
あわせて **2** 時間 **30** 分です。



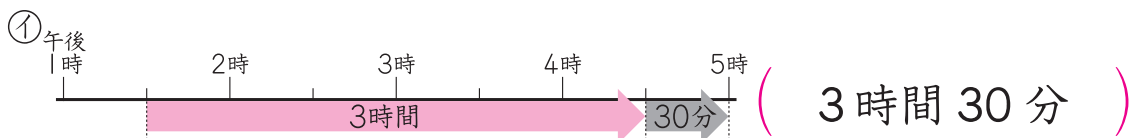
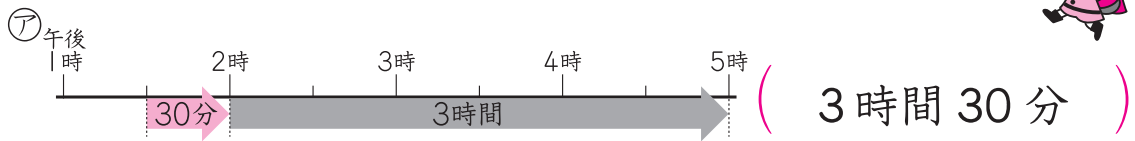
2 左の時こくから右の時こくまでの時間は、何時間何分ですか。

ア、イの2とおりの考え方もとめましょう。

30点(1つ15)



アは2時までと、2時からに  
分けて考えるしかた、  
イは4時30分までと、  
4時30分からに  
分けて考えるしかただよ。



# ドリルの王様大特集

新興出版社 モニプラ

or ドリルの王様

検索

新興出版社の  
色々な商品を  
無料で試せる  
お得なモニターに  
ついてはこちら



ドリルの王様  
公式サイトは  
こちら



苦手を  
克服！  
集中特訓ドリルに  
挑戦しよう！

新興出版社 啓林館  
ちびむす  
ドリル × 新興出版社