

# 3

## 分数と時間

1 30分は何時間ですか。□にあてはまる数をかいて求めましょう。 24点(1つ4)

1時間 = ① □ 分

30分は1時間を60等分した30個分と

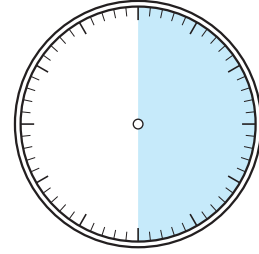
同じだから、② □ / 60 時間です。

これを約分して、③ □ 時間です。

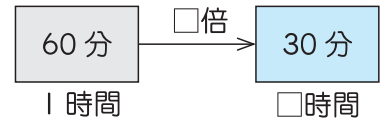
また、30分は60分の何倍にあたるかを考えて、

④ □ ÷ 60 = ⑤ □ / 60

これを約分して、⑥ □ 時間と考えてもよいです。

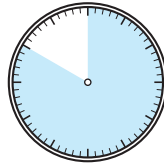


30分は1時間を2等分した1個分だから、 $\frac{1}{2}$ 時間と考えてもいいよ。



2 □にあてはまる分数をかきましょう。 24点(1つ4)

① 50分 = □ 時間



50分は1時間を6等分した5個分だから、 $\frac{5}{6}$ 時間と考えてもいいね。

② 6分 = □ 時間

③ 15分 = □ 時間

④ 25分 = □ 時間

約分できるときは、約分して答えよう。

⑤ 70分 = □ 時間

⑥ 100分 = □ 時間

