

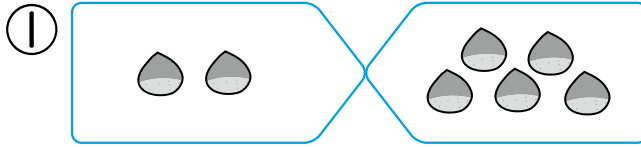


1-1 まとめのテスト

が 月 に 日 もくひょうじかん 15 ぶん

なまえ **こたえ** てん


① いくつに なりますか。 16てん(しき4・こたえ4)



あわせて なんこ

しき $(2 + 5 = 7)$

こたえ (7) こ



ふえると なんわ

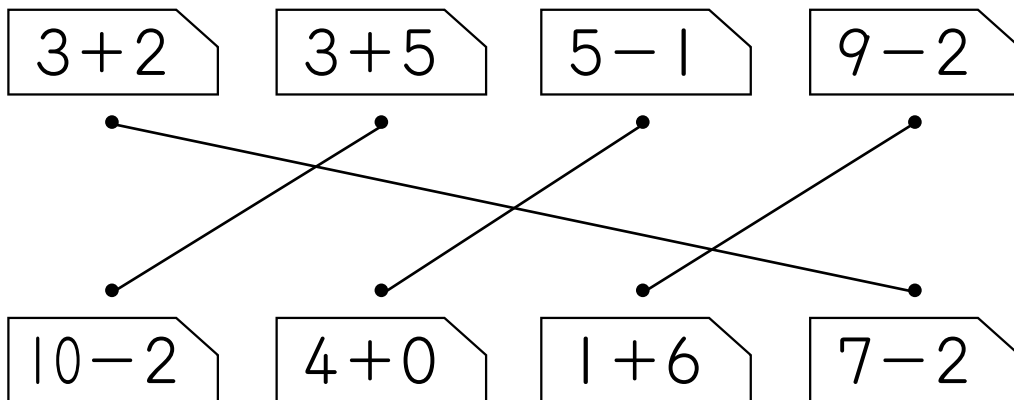
しき $(4 + 4 = 8)$

こたえ (8) わ

② 6は いくつと いくつですか。 12てん(1つ4)

① 1 と 5 ② 3 と 3 ③ 4 と 2

③ こたえが おなじ かあどを せんで つなぎましょう。 16てん(1つ4)



新興出版社啓林館 ちびむすドリル special コラボ

ドリルの王様

楽しく取り組めるから **長続き** する!

各種検定試験、また 2020年度からの **新学習指導要領** にも対応!



ドリルの王様

or 教科書びったりテスト

検索

ドリルの王様
公式サイトは
こちら



予習・復習に便利な
教科書びったりテスト
公式サイトはこちら

