

3 おなじ こたえは だれと だれですか。

16てん(1つ4)



ぱんだ

$18 - 5$



こあら

$7 + 3 + 4$

(ぱんだと いぬ)



うさぎ

$14 - 4 + 1$



ぞう

$11 + 5$

(うさぎ とらいおん)



ねこ

$6 + 8$



いぬ

$10 + 8 - 5$

(ねこ とこあら)



きりん

$10 - 1 + 7$



らいおん


$17 - 6$

(きりん とぞう)


4 いくつに なりますか。

16てん(しき4・こたえ4)

①




11ひき います。



4ひき きました。

しき  $(11 + 4 = 15)$  こたえ  $(15)$ ひき

②




7こ

あります。



3こ

ひろいました。



5こ

あげました。

しき  $(7 + 3 - 5 = 5)$  こたえ  $(5)$ こ