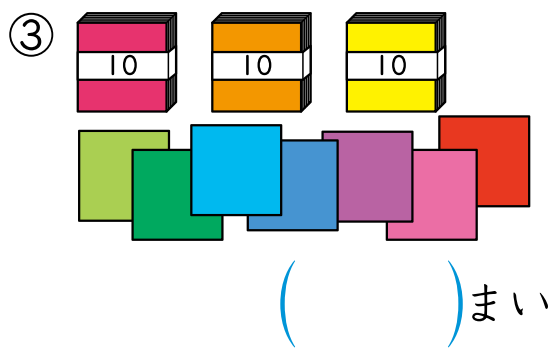
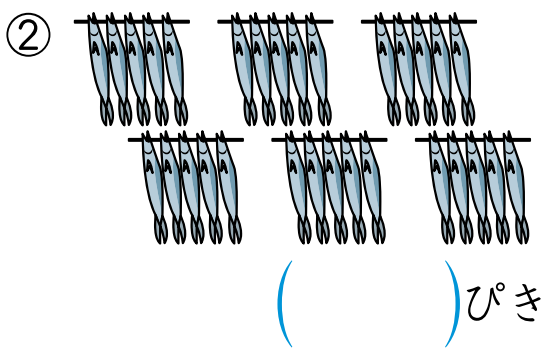



① いくつ あるでしょう。 15てん(1つ5)



② □にはいる かずをかきましょう。 30てん(1つ5)

① 十じゅうのくらいが 2, 一いちのくらいが 0の かずは

② 68は 10が つと 1が つ

③ 17は 10と

④ 14は と 4

⑤ 90より 1ちい小さい かずは

