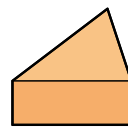
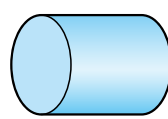
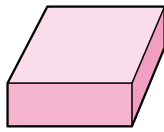

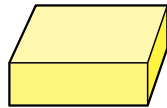
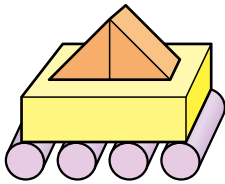


① おなじ かたちを —— で おすびましょう。 12てん(1つ3)



② つみきを つかって のりものを つくりました。つ
かった つみきの かずを かきましょう。 18てん(1つ6)



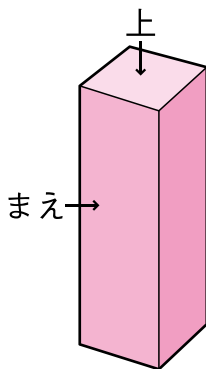
() こ

() こ

() こ

③ ^{した}下の かたちを ^{うえ}上と まえから みた かたちは
それぞれ どれでしょう。○を つけましょう。

16てん(1つ8)



上から みた かたち				
	()	()	()	()

まえから みた かたち				
	()	()	()	()

