
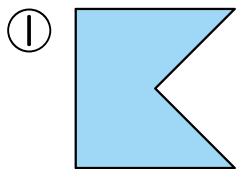
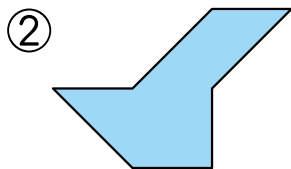


4 下の かたちは  が なんまいで できているでしょう。

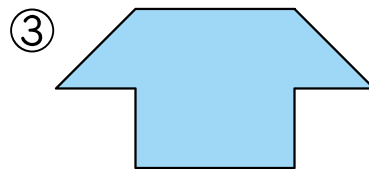
24てん(1つ8)



()まい



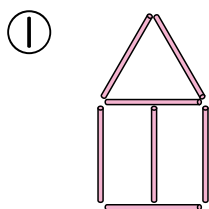
()まい



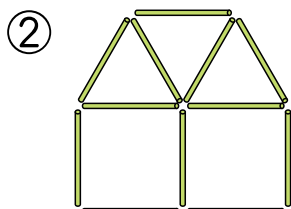
()まい

5 下の かたちは なんぼんの ぼうで できているでしょう。

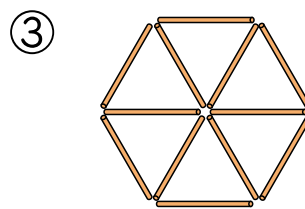
18てん(1つ6)



()ほん




()ほん



()ほん

6 右の えを みて こたえましょう。

12てん(1つ4)

①  は 下から
なんばんめ 左から
なんばんめですか。

下から ()ばんめ

左から ()ばんめ

② 上から 3ばんめ
右から 2ばんめの
ばしょに ○を
つけましょう。

