
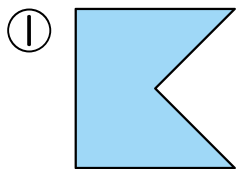
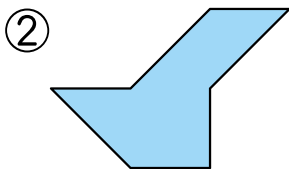


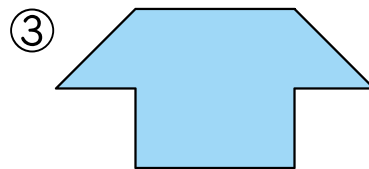
4 下の かたちは  が なんまいで できているで
しょう。 24てん(1つ8)



(6)まい

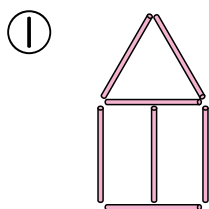


(5)まい

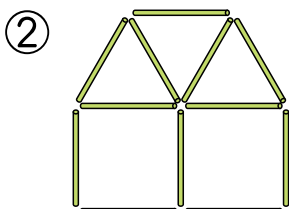


(10)まい

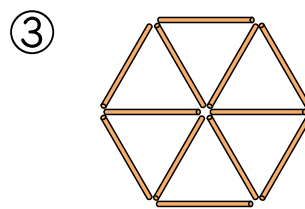
5 下の かたちは なんぼんの ぼうで できているで
しょう。 18てん(1つ6)



(7)ほん




(12)ほん



(12)ほん

6 右の えを みて こたえましょう。 12てん(1つ4)

①  は 下から
なんばんめ 左から
なんばんめですか。

下から (4)ばんめ

左から (2)ばんめ

② 上から 3ばんめ
右から 2ばんめの
ばしょに ○を
つけましょう。

