

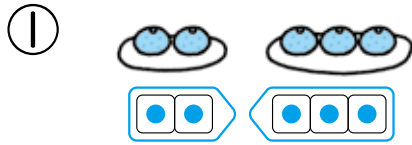


あわせて いくつ、 ふえると いくつ

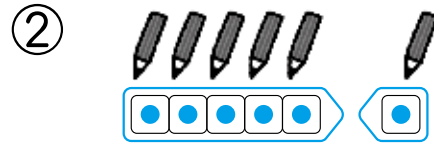
が 月	に 日	じ	ふん~	じ	ふん
なまえ				てん	

1 あわせて いくつでしょう。

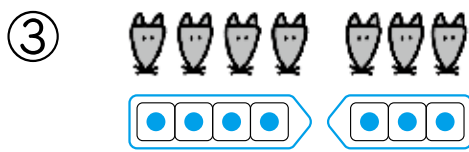
20てん(1つ5)



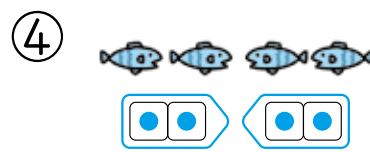
あわせて こ



あわせて ぽん



あわせて ひき



ぜんぶで ひき

2 あわせて いくつでしょう。

24てん(しき6・こたえ6)



しき $\overset{\text{さん}}{3} + \overset{\text{たす}}{2} = \overset{\text{に}}{5}$

こたえ ひき



3+2を たしざんとい
うよ。また、
すうじと きごうを
つなげた ものを
しきと いうよ。



しき $\square + \square = \square$

こたえ にん

