



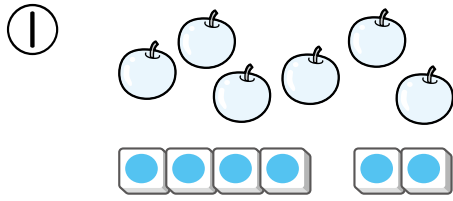
4

のこりは いくつ、
ちがいは いくつ

が 月	に 日	じ ぶん~	じ ぶん
なまえ		てん	

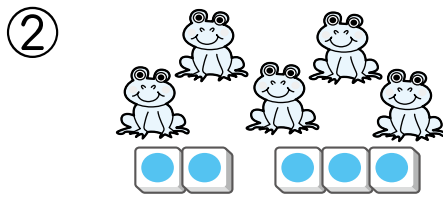
1 のこりは いくつでしょう。

24てん(1つ8)



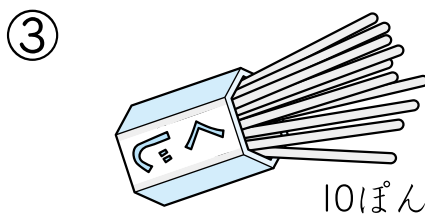
2こ たべると、

のこりは こ



3びき かえると、

のこりは ひき




4ほん あたりだと

はずれは ほん



2 ちがいは いくつでしょう。

16てん(1つ8)



りんごの ほうが

こ おおい



ちがいは、

だい

