

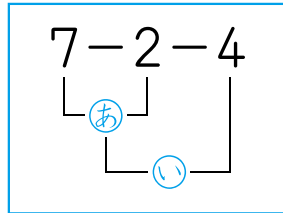


# 3つのかずのひきざん

が 月	に 日	じ ふん～	じ ふん
なまえ		てん	

1 □にはいるかずをかきましょう。 24てん(1つ3)

① 7-2-4のけいさん



あ  $7-2=$  □

い □  $-4=$  □

こたえは □ になります。

② 10-5-3のけいさん

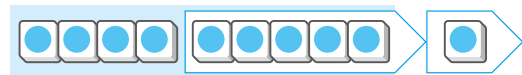
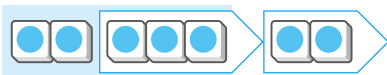
$10-5=$  □, □  $-3=$  □

こたえ □

2 けいさんをしましょう。 16てん(1つ2)

①  $7-2-3=$  2

②  $10-1-5=$  □



③  $8-3-2=$  □

④  $6-1-3=$  □

⑤  $9-4-3=$  □

⑥  $7-1-5=$  □

⑦  $10-5-4=$  □

⑧  $10-2-3=$  □

