



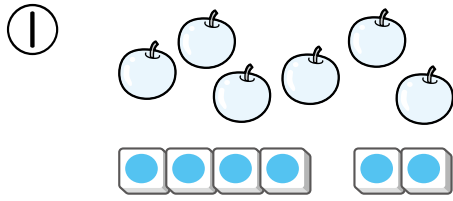
4

のこりは いくつ、
ちがいは いくつ

が 月	に 日	じ ぶん～	じ ぶん
なまえ		こたえ	
		てん	

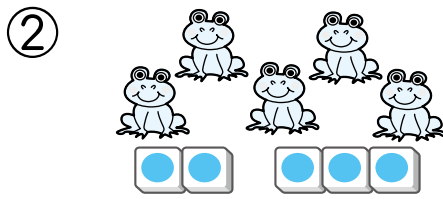
1 のこりは いくつでしょう。

24てん(1つ8)



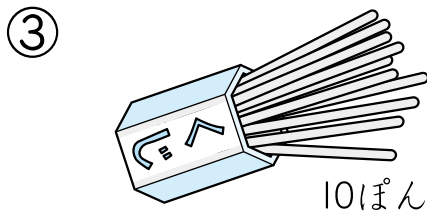
2こ たべると、

のこりは **4**こ



3びき かえると、

のこりは **2**ひき




4ほん あたりだと



はずれは **6**ぱん

2 ちがいは いくつでしょう。

16てん(1つ8)



3こ おおい



ちがいは、

5だい

新興出版社啓林館 ちびむすドリル special コラボ

ドリルの王様

楽しく取り組めるから **長続き** する!

各種検定試験、また 2020年度からの **新学習指導要領** にも対応!



ドリルの王様

or

教科書ぴったリテスト

検索

ドリルの王様
公式サイトは
こちら



予習・復習に便利な
教科書ぴったリテスト
公式サイトはこちら

