



6

なんじなんぷんかな ②

| | | | | | |
|--------|-------------|---|-----|----|----|
| が 月 | に ち 日 | じ | ふん~ | じ | ふん |
| なまえ | | | | てん | |

① □にはいる かずを かきましょう。 12てん(1つ3)

みじかい はりが
1を とおりすぎて
いるから、

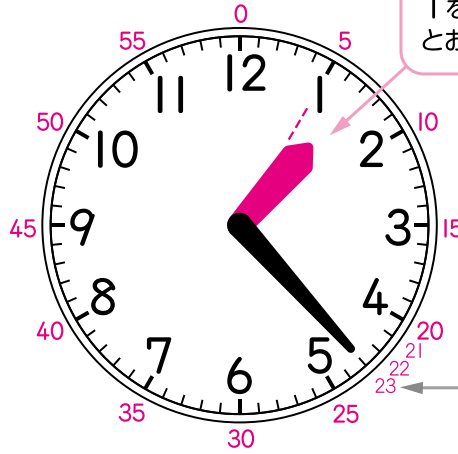
「□じなんぷん」。

ながい はりが
「4」から 3目もり
だから、

20ふんと 3ふんで

23ふん。

とけいは □じ 23ふんです。



1を
とおりすぎて いる。

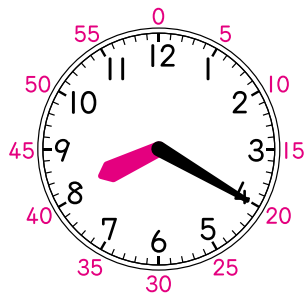
20ふんから
3目もり

「3」は 15ふん、「5」は 25ふんと
すぐに いえるように して おこう。

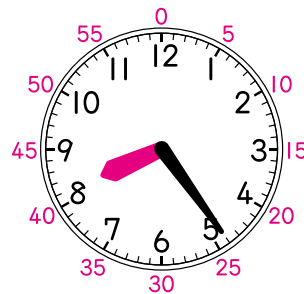


② とけいを よみましょう。 8てん(1つ4)

①



②



(8じ 20ふん)

(8じ 24ふん)

新興出版社啓林館 ちびむすドリル special コラボ

ドリルの王様

楽しく取り組めるから **長続き** する!

各種検定試験、また 2020年度からの **新学習指導要領** にも対応!



ドリルの王様

or 教科書びったりテスト

検索

ドリルの王様
公式サイトは
こちら



予習・復習に便利な
教科書びったりテスト
公式サイトはこちら

