



ひきざん

が つ	なまえ
に ち	

おうちのかたへ
「ひく(たべる・とるなど)とのこりはいくつになるか」という、ひき算を“式”で表す練習です。「-」「=」の記号の読み方と意味を教えてあげてください。


ひきざんを しましょう。

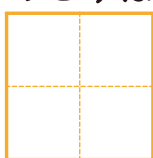
 と  に すうじを かきましょう。


はじめの かず

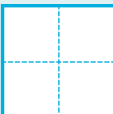
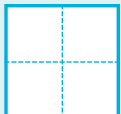
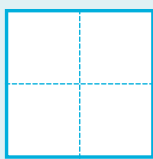






のこりは 

 たべると

しき  ひく  は 

— — =

はじめの かず

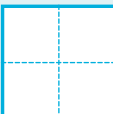
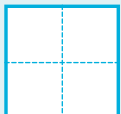
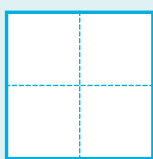






のこりは 

 たべると

しき  ひく  は 

— — =

