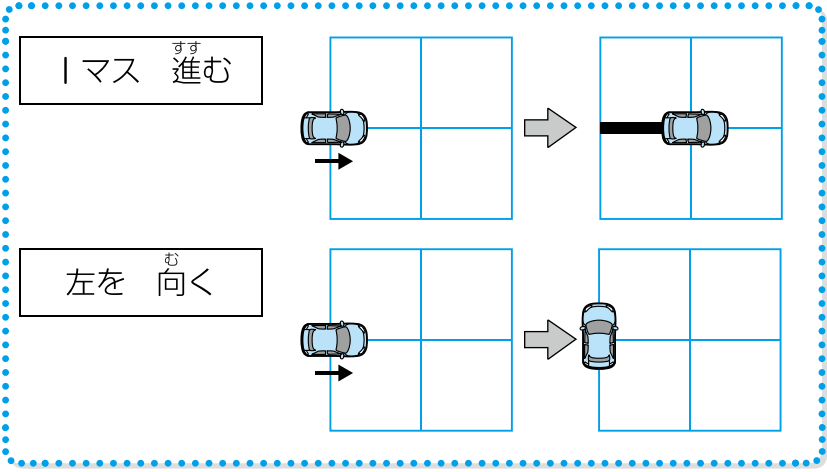




# じゅんじょ ①

月 日	時 分～ 時 分
名前	点

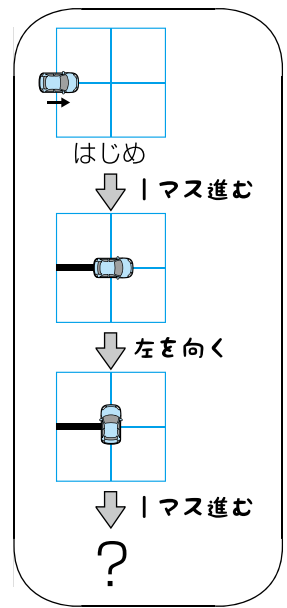
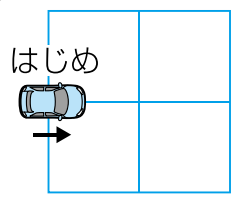
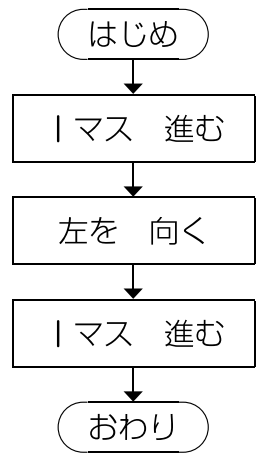
① 車のロボットを動かして線をかきます。ロボットを動かすには、次の命れいを使います。



動いたところに線がひかれるよ。

ロボットは、命れいしたじゅんに動きます。次のように命れいしたとき、どんな線になりますか。

25点



- ア
- イ
- ウ

