



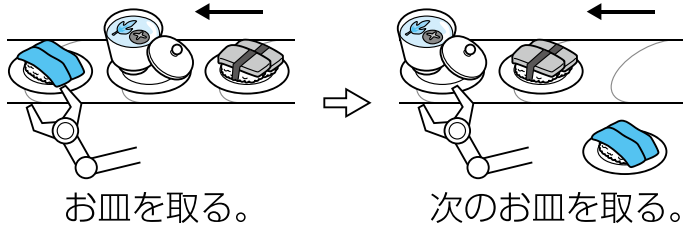
6

ぶんき ②

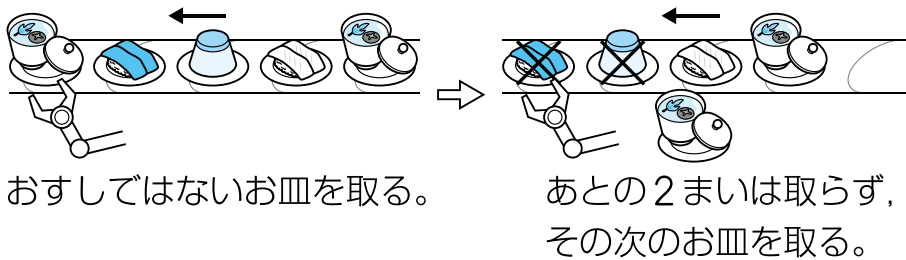
月 日	時 分～ 時 分
名前	点

① ^{かいてん}回転ずしでは、いろいろな食べものがお皿にのって^{さら}流れてきます。^{なが}このお皿を取るロボットがあります。ロボットは、次のようなきまりで、お皿を取ります。

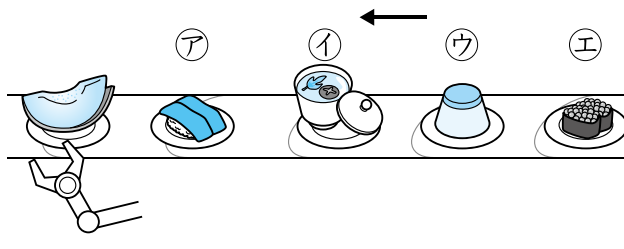
- ・ 右から流れてくるお皿を | まいずつ取る。



- ・ おすしではないお皿を取ったら、そのあとの2まいは取らない。



次のようにお皿が流れてくるとき、このロボットがメロンの次を取るお皿はどれですか。 12点



「メロン」はおすしではないね！あとの2まいは取らないよ。

