



6

# ぶんき ②

月 日 時 分～ 時 分

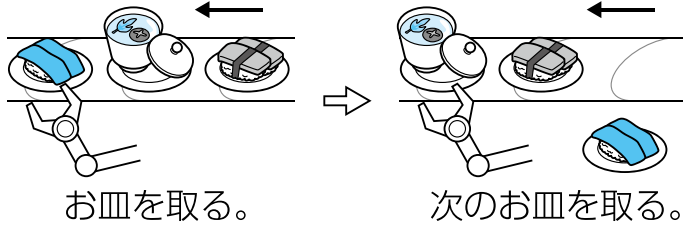
名前

# 答え

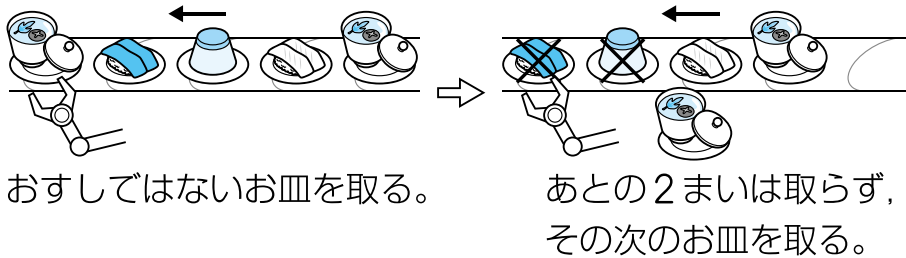
点

① <sup>かいてん</sup>回転ずしでは、いろいろな食べものがお皿にのって<sup>さら</sup>流れて<sup>なが</sup>きます。このお皿を取<sup>と</sup>るロボットがあります。ロボットは、次<sup>つぎ</sup>のようなきまりで、お皿を取ります。

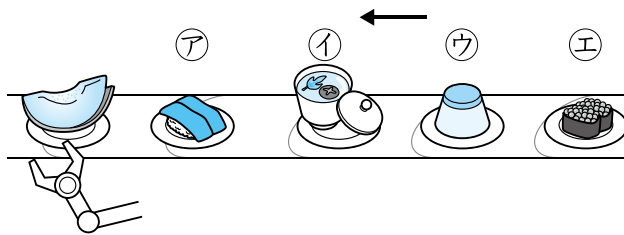
・ 右から流れてくるお皿を | まいずつ取る。



・ おすしではないお皿を取ったら、そのあとの2まいは取らない。



次のようにお皿が流れてくるとき、このロボットがメロンの次<sup>つぎ</sup>に取るお皿はどれですか。 12点



(                      ウ                      )

「メロン」はおすしではないね！あとの2まいは取らないよ。

