







へん数②

月	日	時	分～	時	分
名前		答え			点

花のなえを植えます。1か所に植える数を次のようにしました。


あさがお←6 ひまわり←8 ほうせんか←7 マリーゴールド←9 おしろいばな←5



花のなえを次の場所に植えます。

ベランダ←あさがお+ひまわり
公園←ひまわり+ほうせんか
花だん←ほうせんか+マリーゴールド
校庭←マリーゴールド+おしろいばな

ベランダ	6+8
公園	8+7
花だん	7+9
校庭	9+5



① 植えるなえの数はそれぞれいくつですか。()にあてはまる数をかきましよう。 16点(1つ4)

- | | | | |
|--------|--------|------|--------|
| ① ベランダ | (14) | ② 公園 | (15) |
| ③ 花だん | (16) | ④ 校庭 | (14) |

② なえの数が多の方に○をつけましよう。 24点(1つ4)

- | | | | | | |
|---|---------|-------|---|--------|-------|
| ① | ベランダ | 公園 | ② | 公園 | 花だん |
| | () | (○) | | () | (○) |
| ③ | 花だん | 校庭 | ④ | ベランダ | あさがお |
| | (○) | () | | (○) | () |
| ⑤ | マリーゴールド | 公園 | ⑥ | おしろいばな | 校庭 |
| | () | (○) | | () | (○) |

