

きほんのドリル



5

流れる水のはたらき 上流と下流の石のちがい

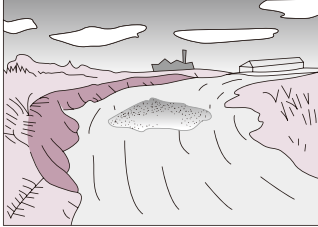
月 日 時間 10分

名前

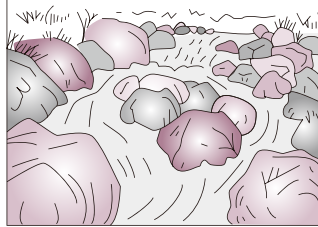
/100点

★ 下の図は、川のようにすを表したものです。□にあてはまる場所を、「山の中」、「平地」、「海の近く」から選んでかきましょう。💡 **30点(1つ10点)**

①



②

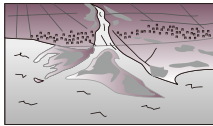


③

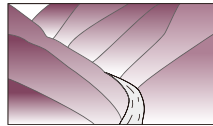


★ 下の①～③の地形が見られるのは、右の図の㉗～㉙のどこですか。()に記号をかきましょう。 **30点(1つ10点)**


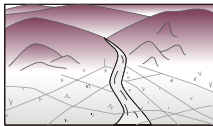
① ()



② ()



③ ()



★ 次の□にあてはまる言葉を、□から選んでかきましょう。💡 **20点(1つ5点)**

- (1) 山の中の川では、角ばった□□□石がある。 (1) _____
- (2) 平地で見られるのは、□□のある石である。 (2) _____
- (3) 海の近くでは、流れがおそく、□□や小石が積もる。 (3) _____
- (4) 土や石が積もるのは、流れが□□□ところである。 (4) _____

すな 丸み 大きな 小さな 速い おそい

↪ 20点(なぞりは点数なし)

だいじな
まとめ

山の中、平地、海の近くでは、川のはば、水の流れの速さ、^{かわら}川原の石の形や(**大きさ**)などが { **変わらない・変わる** }。



★ 山の中は、川の流れが速く、土地をけずっていきます。

☆ 石は、山の中から平地、海の近くへ流される間に、大きさや形が変わっていきます。

新興出版社啓林館 ちびむすドリル special コラボ

ドリルの王様

楽しく取り組めるから **長続き** する!

各種検定試験、また 2020年度からの **新学習指導要領** にも対応!



ドリルの王様

or

教科書ぴったリテスト

検索

ドリルの王様
公式サイトは
こちら



予習・復習に便利な
教科書ぴったリテスト
公式サイトはこちら

