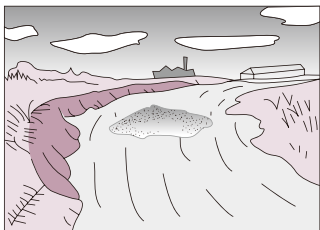




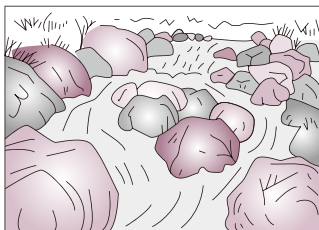
★ 下の図は、川のようにすを表したものです。□にあてはまる場所を、「山の中」、「平地」、「海の近く」から選んでかきましょう。💡 30点(1つ10点)

①




海の近く

②



山の中

③



平地

★ 下の①～③の地形が見られるのは、右の図の㉗～㉙のどこですか。()に記号をかきましょう。 30点(1つ10点)

① (ウ)



② (ア)



③ (イ)



★ 次の□にあてはまる言葉を、□から選んでかきましょう。💡 20点(1つ5点)

- (1) 山の中の川では、角ばった□□□石がある。
 (2) 平地で見られるのは、□□のある石である。
 (3) 海の近くでは、流れがおそく、□□や小石が積もる。
 (4) 土や石が積もるのは、流れが□□□ところである。

- (1) 大きな
 (2) 丸み
 (3) すな
 (4) おそい

すな 丸み 大きな 小さな 速い おそい

↪ 20点(なぞりは点数なし)

だいじな
まとめ

山の中、平地、海の近くでは、川のはば、水の流れの速さ、^{かわら}川原の石の形や(**大きさ**)などが { **変わらない**・**変わる** }。



★ 山の中は、川の流れが速く、土地をけずっていきます。

☆ 石は、山の中から平地、海の近くへ流される間に、大きさや形が変わっていきます。

