



# きほんのドリル

## 月と太陽 月の形の見え方

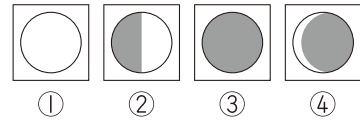
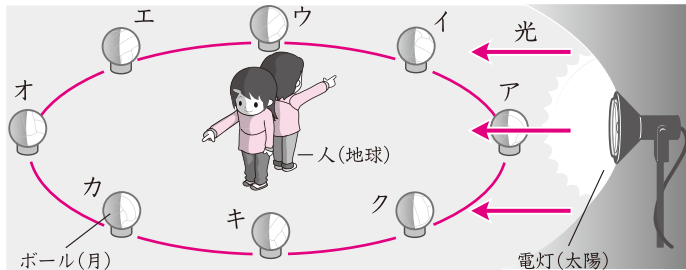
# 5

月 日 時間 **10分**

名前

/100点

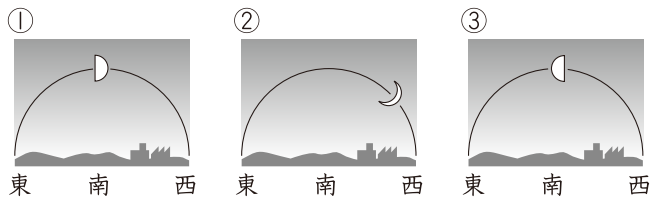
- ★ ボールを月、電灯を太陽に見たてた下の図を見て、{ } にあてはまる言葉を選んで○で囲み、( ) にあてはまる番号をかきましょう。 **実験** 20点(1つ5点)



月の形の見え方が日によって変わるのは { 月・太陽 } からの光が当たっている部分が変わるためである。オの位置にボールがあるときは、( ) のように見える。ア的位置にあるときは、人からボールの明るい部分が見えないので、( ) のように見える。また、ク的位置にあるときは、電灯のある側が明るくなるので、( ) のように見える。

- ★ 図のように月が見えるとき、太陽はどの方位にあるでしょうか。 30点(1つ10点)

- ①のとき ( )  
②のとき ( )  
③のとき ( )



- ★ 次の文で正しいものには○、まちがっているものには×をつけましょう。 40点(1つ10点)

- (1) 月が見えるのは夜だけで、昼に見えることはない。 (1) \_\_\_\_\_  
 (2) 月の形の見え方が変わるのは、月自身はその形を変えているためである。 (2) \_\_\_\_\_  
 (3) 月の形の見え方は、毎日少しずつ変わり、約1か月で (3) \_\_\_\_\_  
 もとの形にもどる。  
 (4) 日によって月の形の見え方が変わるのは、月と太陽の位置関係が変わるためである。 (4) \_\_\_\_\_

↪ 10点(なぞりは点数なし)

だいじな  
まとめ

月の形の見え方が日によって変わるのは、月と( )の( 位置関係 )が変わるためである。月の形の見え方は、約1か月でもとの形にもどる。



- ★ 地球から見て、光の当たっているほうが明るく見えます。  
 ☆ 月が光って見える側に太陽があります。

新興出版社啓林館 ちびむすドリル special コラボ

# ドリルの王様

楽しく取り組めるから **長続き** する!

各種検定試験、また2020年度からの **新学習指導要領** にも対応!

ドリルの王様

or 教科書ぴったリテスト

検索

ドリルの王様  
公式サイトは  
こちら



予習・復習に便利な  
教科書ぴったリテスト  
公式サイトはこちら

