



きほんのドリル

月と太陽 月の形の見え方

5

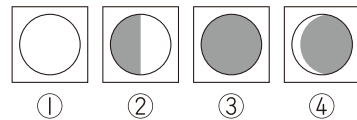
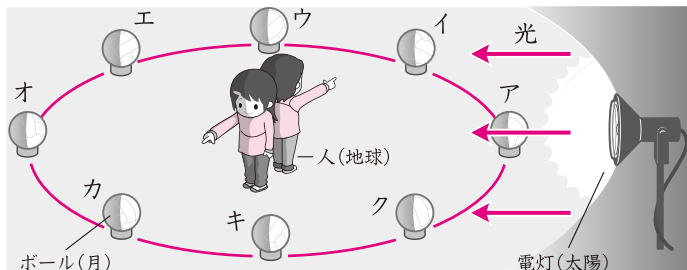
月 日 時間 **10分**

名前

答え

/100点

- ★** ボールを月、電灯を太陽に見たてた下の図を見て、{ } にあてはまる言葉を選んで○で囲み、() にあてはまる番号をかきましょう。 **実験** 20点(1つ5点)




月の形の見え方が日によって変わるのは { 月・太陽 } からの光が当たっている部分が変わるためである。オの位置にボールがあるときは、(①) のように見える。ア的位置にあるときは、人からボールの明るい部分が見えないので、(③) のように見える。また、ク位置にあるときは、電灯のある側が明るくなるので、(④) のように見える。

- ★** 図のように月が見えるとき、太陽はどの方位にあるでしょうか。 30点(1つ10点)

- ①のとき
- ②のとき
- ③のとき

(西)
(西)
(東)



- ★** 次の文で正しいものには○、まちがっているものには×をつけましょう。 40点(1つ10点)

- (1) 月が見えるのは夜だけで、昼に見えることはない。 (1)
- (2) 月の形の見え方が変わるのは、月自身がその形を変えているためである。 (2)
- (3) 月の形の見え方は、毎日少しずつ変わり、約1か月で (3)
- (4) もとの形にもどる。 (4)
- (4) 日によって月の形の見え方が変わるのは、月と太陽の位置関係が変わるためである。 ↙ 10点(なぞりは点数なし)

だいじな
まとめ

月の形の見え方が日によって変わるのは、月と(太陽)の (位置関係) が変わるためである。月の形の見え方は、約1か月でもとの形にもどる。



- ★ 地球から見て、光の当たっているほうが明るく見えます。
- ☆ 月が光って見える側に太陽があります。

新興出版社啓林館 ちびむすドリル special コラボ

ドリルの王様

楽しく取り組めるから **長続き** する!

各種検定試験、また 2020年度からの **新学習指導要領** にも対応!

ドリルの王様

or 教科書ぴったリテスト

検索

ドリルの王様
公式サイトは
こちら



予習・復習に便利な
教科書ぴったリテスト
公式サイトはこちら

