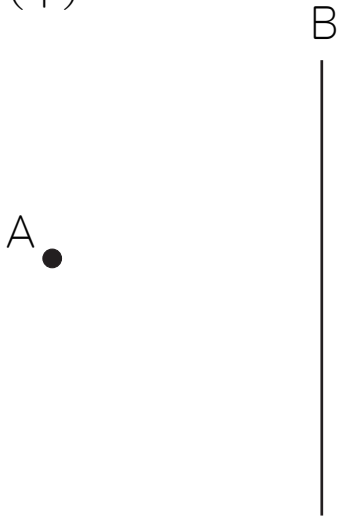


# 垂直な線・平行な線を引く練習 (3)

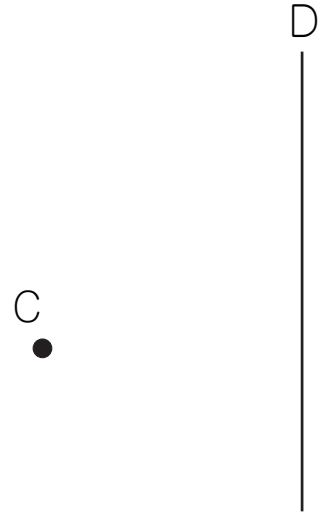
名前 \_\_\_\_\_

点Aをとって、線Bに垂直な直線を三角定規<sup>じょうぎ</sup>を使ってかきましょう。  
点Cをとって、線Dに平行な直線を三角定規を使ってかきましょう。

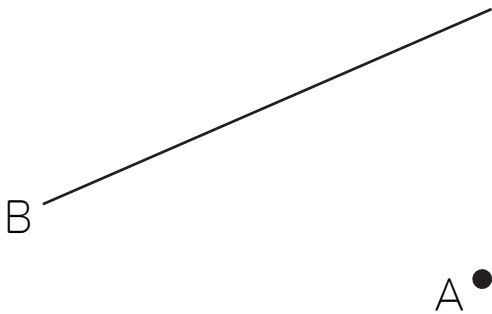
(1)



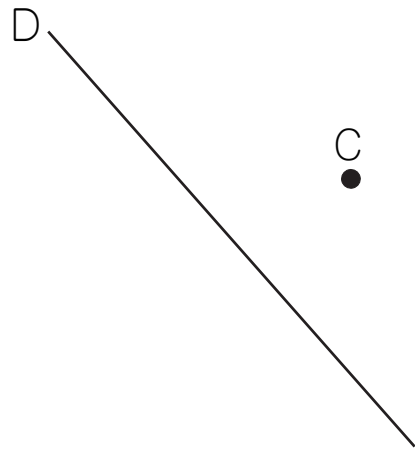
(2)



(3)



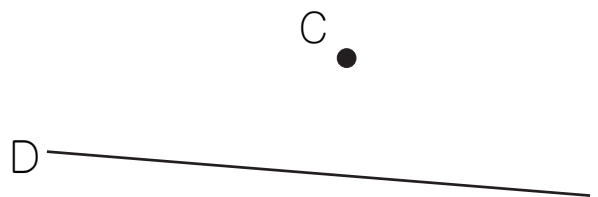
(4)



(5)



(6)



A ●