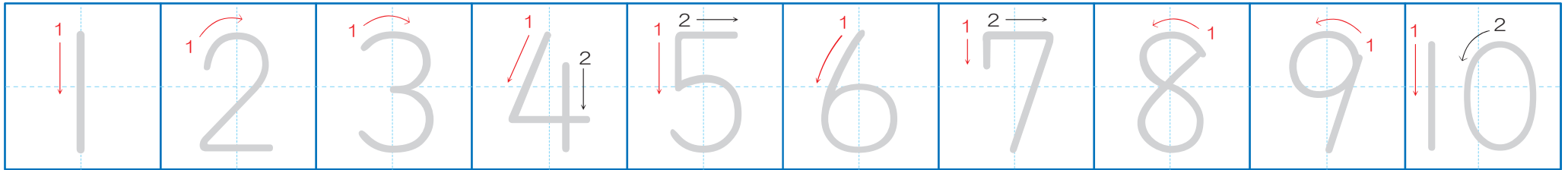


# □ かずの おおきさ くらべ (1)

		なまえ
がつ	にち	

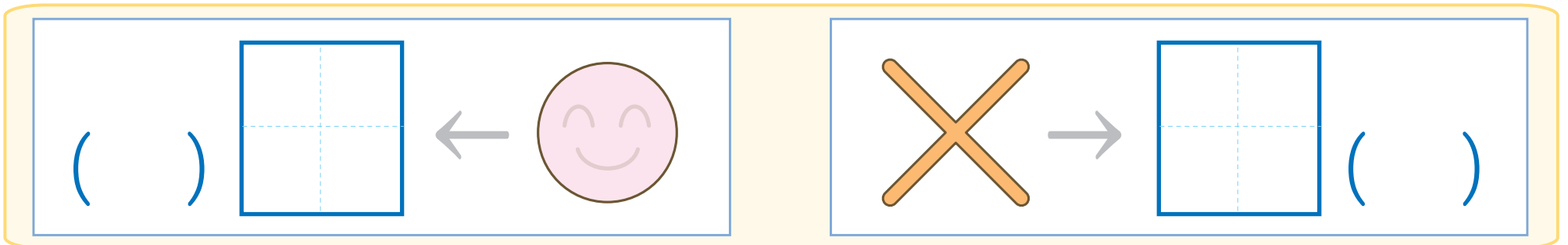
●すうじを なぞりましょう。



●どちらの かずが おおいか せんで おすんで くらべましょう。



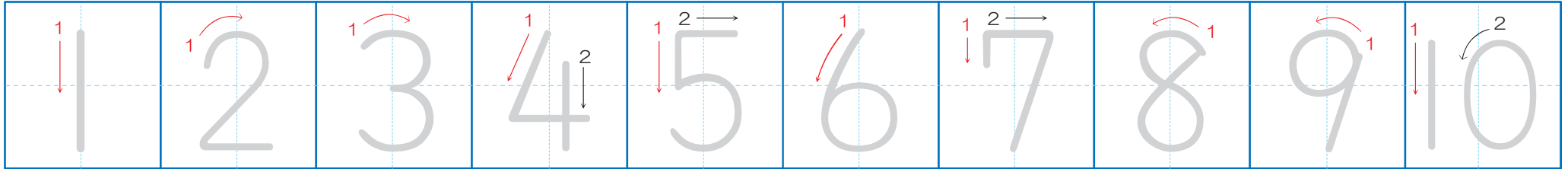
●うえの かずを かぞえて □ に すうじを かきましょう。 おおい ほうの ( ) に ○ を かきましょう。



# □ かずの おおきさ くらべ (2)

		なまえ
がつ	にち	

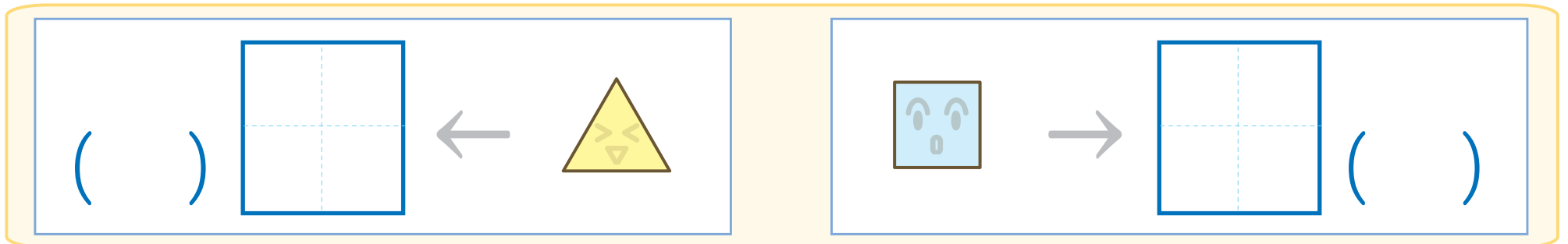
●すうじを なぞりましょう。



●どちらの かずが おおいか せんで おすんで くらべましょう。



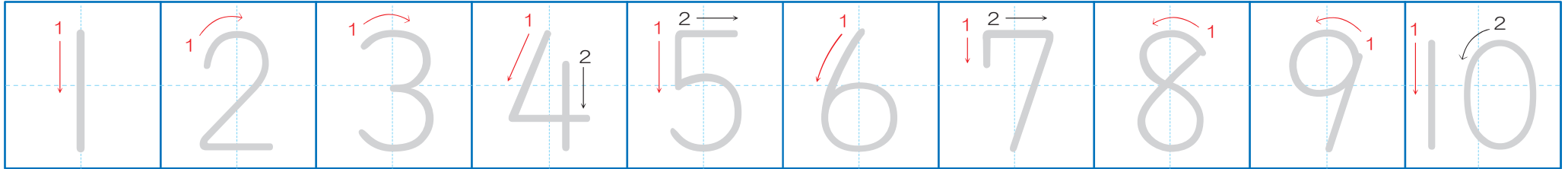
●うえの かずを かぞえて □ に すうじを かきましょう。 おおい ほうの ( ) に ○ を かきましょう。



□ かずの おおきさ くらべ (3)

		なまえ
がつ	にち	


●すうじを なぞりましょう。



●どちらの かずが おおいか せんで おすんで くらべましょう。



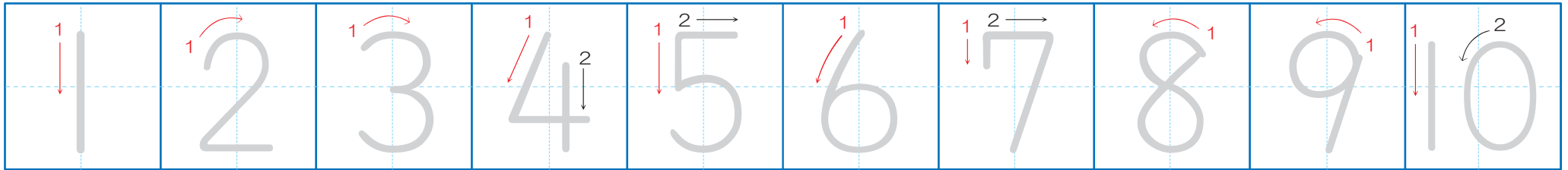
●うえの かずを かぞえて □ に すうじを かきましょう。 おおい ほうの ( ) に ○ を かきましょう。



# □ かずの おおきさ くらべ (4)

		なまえ
がつ	にち	

●すうじを なぞりましょう。



●どちらの かずが おおいか せんで おすんで くらべましょう。



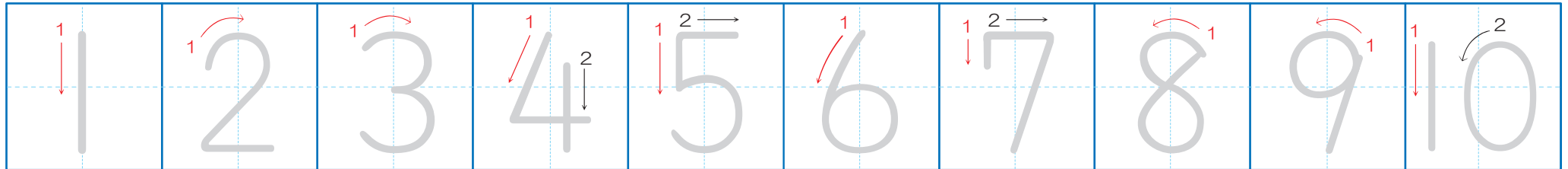
●うえの かずを かぞえて □ に すうじを かきましょう。 おおい ほうの ( ) に ○ を かきましょう。





# □ かずの おおきさ くらべ (5)

		なまえ
がつ	にち	

●すうじを なぞりましょう。



●どちらの かずが おおいか せんで おすんで くらべましょう。



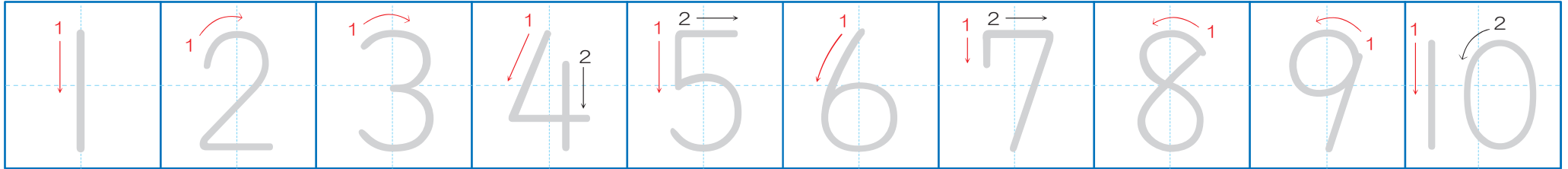
●うえの かずを かぞえて □ に すうじを かきましょう。 おおい ほうの ( ) に ○ を かきましょう。

( )	←	♣
♦	→	( )

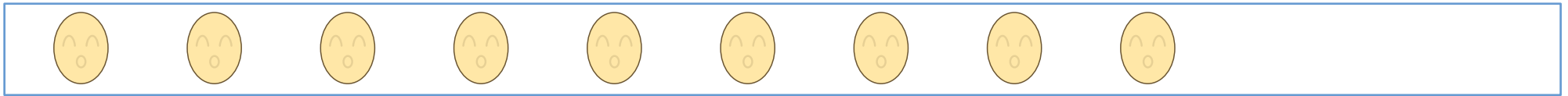
# □ かずの おおきさ くらべ (6)

		なまえ
がつ	にち	

●すうじを なぞりましょう。



●どちらの かずが おおいか せんで おすすんで くらべましょう。



●うえの かずを かぞえて □ に すうじを かきましょう。 おおい ほうの ( ) に ○ を かきましょう。

