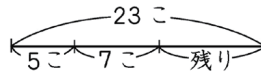
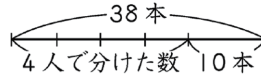


1 次の□にあてはまる数を求めなさい。

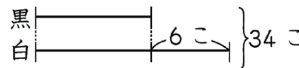
(1) 23こあるあめのうち、5こを兄に、7こを弟にあげると、残りのあめは□こです。



(2) 38本のえん筆を4人の子どもに□本ずつ分けると、残りは10本になります。



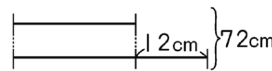
(3) 黒石と白石が合わせて34こあります。また、白石は黒石より6こ多くあります。



① 黒石は、□こあります。

② 白石は、□こあります

(4) 長さが72cmのテープを、長さの差が12cmになるように2本に切り分けると、長い方は、□cmです。



(1)		こ
(2)		本
(3)	①	こ
	②	こ
(4)		cm

2 次の各問いに答えなさい。

(1) けんた君のクラスには、男子と女子が合わせて35人います。また、男子の人数は女子の人数より5人多いです。女子の人数は何人ですか。

(1)		人
(2)		mL

(2) 2Lのジュースを大小2つのびんに分けたところ、大きいびんに入っているジュースは、小さいびんに入っているジュースよりも400mL多くなりました。大きいびんに入っているジュースは何mLですか。



3 お父さん、お母さん、さくらさんの年齢の合計は77才です。お父さんはお母さんより2才年上で、お母さんはさくらさんより24才年上です。これについて、次の各問いに答えなさい。

(1)	才
(2)	才

(1) お父さんはさくらさんより何才年上ですか。

(2) さくらさんは何才ですか。

4 次の問いに答えなさい。

(1) 400円持っていましたが、130円のノート1冊とボールペン1本を買ったら、残りのお金が80円になりました。このボールペン1本のねだんは何円ですか。

(1)	円
(2)	cm
(3)	
(4)	こ
(5)	まい

(2) 170cmのリボンから、30cmのリボンを5本切り取りました。残りのリボンの長さは何cmですか。

(3) 大、小2つの数があります。2つの数の和は18で、差は4です。大きい方の数はいくつですか。

(4) 姉と妹の持っているおはじきの数の和は64こで、姉が妹より12こ多く持っています。妹はおはじきを何こ持っていますか。

(5) 赤い紙と青い紙が合わせて49まいあります。赤い紙が青い紙より7まい少ないとき、青い紙は何まいありますか。



5 兄と姉とゆかりさんの年齢の合計は26才です。兄は姉より5才年上、ゆかりさんより8才年上です。

(1) 姉はゆかりさんより何才年上ですか。

(2) ゆかりさんは何才ですか。

(1)	才
(2)	才

