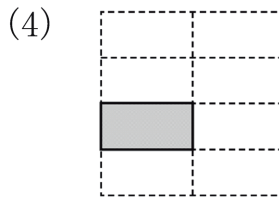
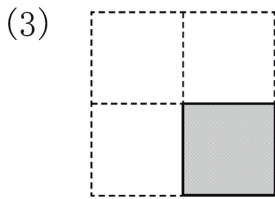
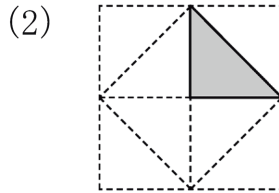
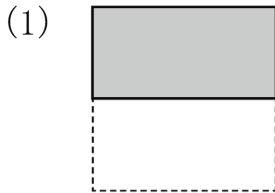


1 正方形の紙を、同じ大きさにいくつかに切りました。  
1つ分の大きさは、もとの正方形の大きさのどれだけ  
ですか。




(1)	$\frac{1}{2}$
(2)	$\frac{1}{8}$
(3)	$\frac{1}{4}$
(4)	$\frac{1}{8}$

2 つぎの大きさにいろをぬりましょう。

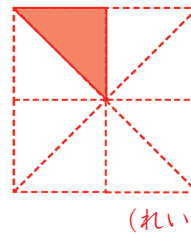
(1)  $\frac{1}{2}$



(2)  $\frac{1}{4}$



(3)  $\frac{1}{8}$



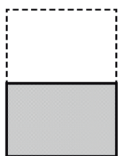
(1)	左にかきましよう。
(2)	左にかきましよう。
(3)	左にかきましよう。

3 長方形の紙を、いくつかに切りました。あとの大き  
さのものをえらんで、きごうを書きましよう。

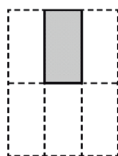
(1) もとの大きさの  $\frac{1}{2}$

(2) もとの大きさの  $\frac{1}{4}$

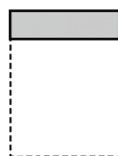
ア



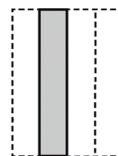
イ



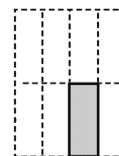
ウ



エ



オ



(1)	ア
(2)	エ

イは、6つに分けた1つ分なので、 $\frac{1}{6}$ です。  
ウは、同じ大きさに分けていないので、  
 $\frac{1}{2}$ や $\frac{1}{4}$ ではありません。  
オは、8つに分けた1つ分なので、 $\frac{1}{8}$ です。

